

Ficha DIDÁCTICA


3

ORDENA

¿Cuál fue la evolución del paisaje de Galve durante el final del Jurásico y el principio del Cretácico? Ordena y numera los bloques que representan cada formación geológica según la evolución del paisaje de Galve durante estos periodos de la era mesozoica.

○

Fm Cedrillas




○

Fm Aguilar del Alfambra




○

Fm El Castellar



○

Fm Camarillas



○

Fm Galve



○

Fm Higueruelas



Ficha DIDÁCTICA

3

CLASIFICA

Nombra y clasifica todas las especies de dinosaurios descritas en Galve y alrededores.



TERÓPODOS



SAURÓPODOS



ORNITÓPODOS

¿Qué otras especies de animales que no son dinosaurios se han encontrado en Galve?

RESPONDE



Los pterosaurios son reptiles voladores que convivieron con los dinosaurios durante el Mesozoico. ¿En qué se parecen y en qué se diferencian los pterosaurios de las aves?



Ficha DIDÁCTICA

3

CRUCIGRAMA MESOZOICO

Completa el crucigrama con las especies de Galve.



VERTICALES

1 "El iguano de Galve".

9 Primer dinosaurio descrito en España.



HORIZONTALES

- 2 ¿Qué tipo de animal es *Galvechelone*?
- 3 El pez hallado en Galve, *Lonchidion microselachos*, pertenece al grupo de los condriictios o peces _____.
- 4 El pequeño dinosaurio *Gideonmantellia amosanjuanae* pertenece al grupo de los dinosaurios _____.
- 5 Dinosaurios tireóforos con cuerpo acorazado y maza en la cola.
- 6 Estructura sedimentaria que se forma por la acción de una corriente de agua o viento, y que puedes encontrar en la playa y en el yacimiento Las Cerradicas.
- 7 Saurópodo cuyo nombre está dedicado a la localidad de Galve.
- 8 Los únicos vertebrados con capacidad de volar son: los murciélagos (mamíferos), las aves y algunos terópodos cercanos a ellas, y los _____.
- 10 Familia de dinosaurios terópodos a la que pertenece *Camarillasaurus cirugedae*.



Ficha DIDÁCTICA

3

MEDITA Y DIBUJA

Cuéntanos qué es lo que más te ha impresionado del museo i y realiza tu propia versión de una reconstrucción paleontológica de la especie fósil del museo que más te guste!



DINOSAURIOS ARAGONESES

Numera los dibujos de estos dinosaurios descritos en Galve para asociar su nombre con su reconstrucción paleoartística.



- 1 *Aragosaurus ischiaticus*
- 2 *Galvesaurus herreroi*
- 3 *Gideonmantellia amosanjuanae*
- 4 *Delapparentia turolensis*
- 5 *Iguanodon galvensis*